



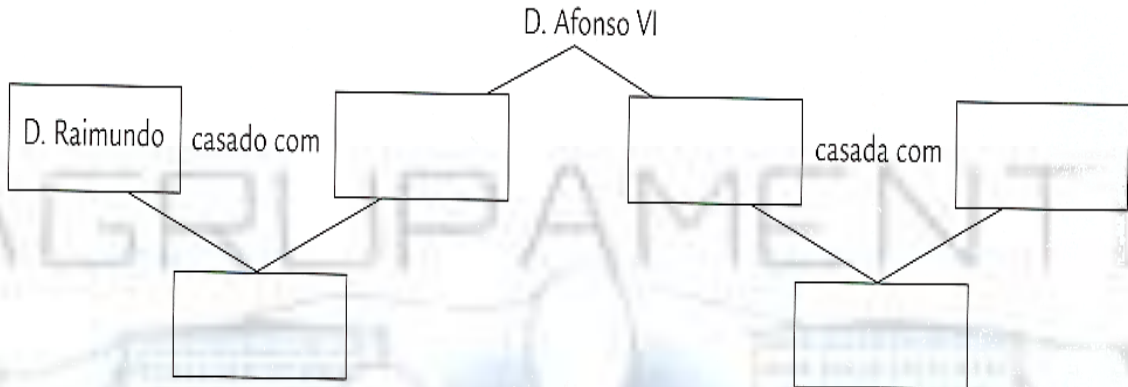
FICHA DE ESTUDO

História e Geografia de Portugal

5º ano

Lê com atenção e responde.

1. Preenche o esquema da família de Afonso VI.



2. Lê o documento e responde.

“(...) Antes de morrer, D. Henrique chamou seu filho D. Afonso Henriques e disse-lhe: - Filho, toda esta terra que te deixo não percas dela um palmo que eu ganhei.(...)”
in “Crónica Breve de Santa Cruz de Coimbra”
(adptado)

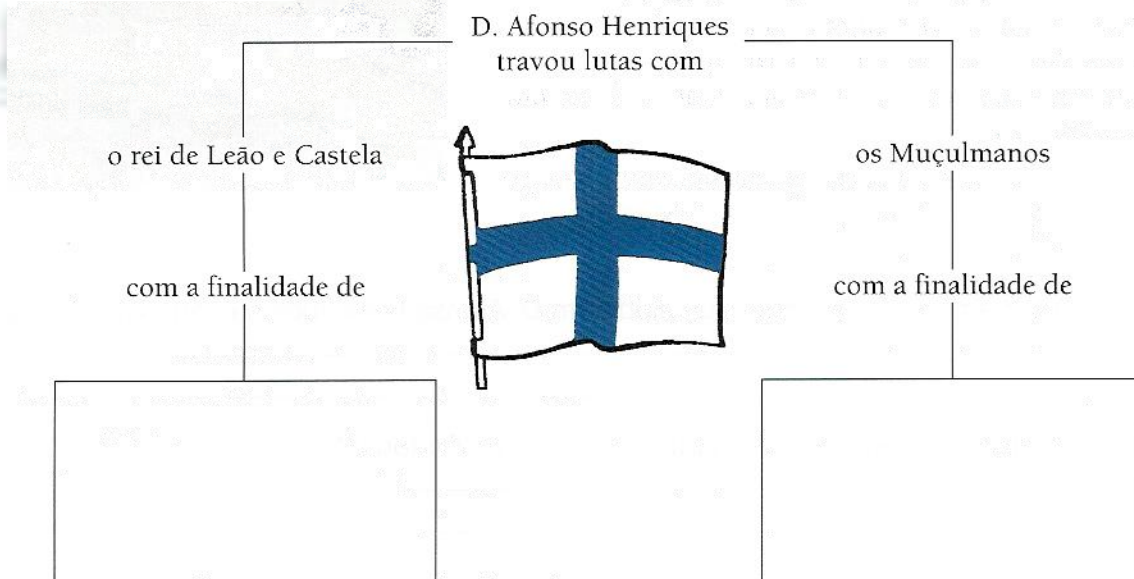
2.1. Explica se D. Afonso Henriques fez a vontade do pai e porquê.

.....

.....

.....

12.2. Completa o esquema.



12.3. Completa a cronologia.

DATA	ACONTECIMENTO
1125	
	Batalha de S. Mamede
1143	
	Bula “Manifestis Probatum”

12.4. Explica os motivos que conduziram à Batalha de S. Mamede.

.....

.....


12.5. Explica a importância da Bula para o Reino de Portugal.

.....

.....

13. Lê o documento.

“(...) No dia 1 de Julho, fixámos em volta dela as nossas tendas e, (...), tomámos o seu arrabalde. Depois de tudo isto fizemos, (...), alguns assaltos em volta das muralhas e (...) fomos passando o tempo na construção de máquinas de cerco. (...)”
 in Carta do Cruzado Arnulfo de Areschat
 (adaptado)



13.1. Indica quem queria conquistar Lisboa.

.....

13.2. Identifica quem ajudou a conquistar Lisboa.

.....

13.3. Indica o ano em que Lisboa foi conquistada.

.....

13.4. Indica as armas utilizadas nesta conquista e identifica-as na imagem através das letras respectivas.

.....

.....

