



FICHA DE ESTUDO

História e Geografia de Portugal

5º ano

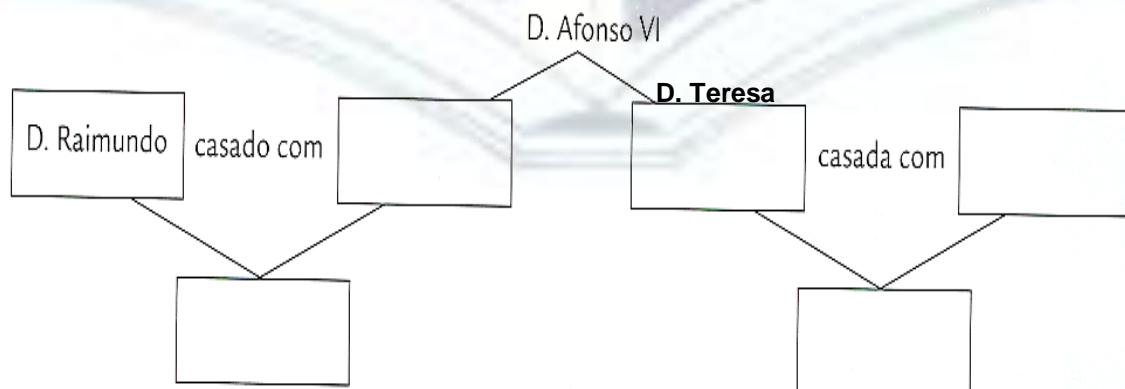
Lê com atenção e responde.

1. Completa o texto, descobrindo as palavras que faltam nos espaços em branco.

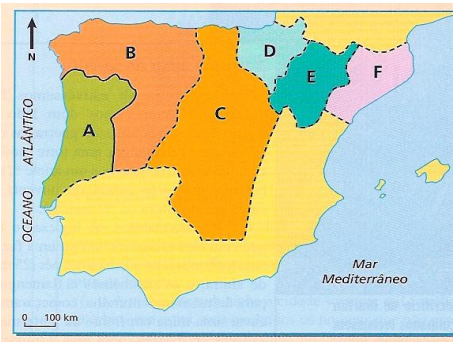
Os muçulmanos atarvessarm o e, comandados por conquistaram quase toda a, excepto as, zona montanhosa do da Península Os cristãos, chefiados por, partiram da cidade de para os derrotar na batalha de em

A cristã foi o período de tempo em que os peninsulares lutaram contra os para Para isso, pediram ajuda aos

2. Preenche o esquema da família de Afonso VI.



3. Faz a legenda do mapa:



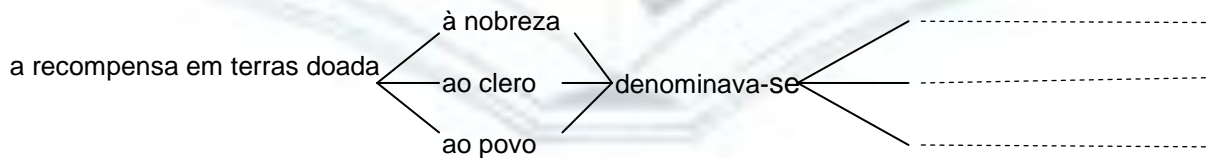
- A -
- B -
- C -
- D -
- E -
- F -
- G -

4. Descobre as palavras que faltam no texto e que estão relacionadas com a imagem.



Chamo-me e lutei
 contra o meu primo, para obter a
 através do tratado de
, em O papa
 confirmou o meu título através
 da bula, em
 A bandeira que escolhi é e tem uma
 azul no meio. Aumentei o território e
 recompensei os que me ajudaram dando-lhes
 Sucedeu-me o meu filho

5. Completa o esquema:



6. Indica as três razões pelas quais o rei doava as terras.

.....

.....

.....